

IES JAUME SALVADOR I PEDROL

NOM _____ COGNOMS _____

28 DE MARÇ DE 2017 CURS 2N ESO GRUP ____

VISITA AL MONESTIR DE POBLET I MONTBLANC FITXA DE TREBALL

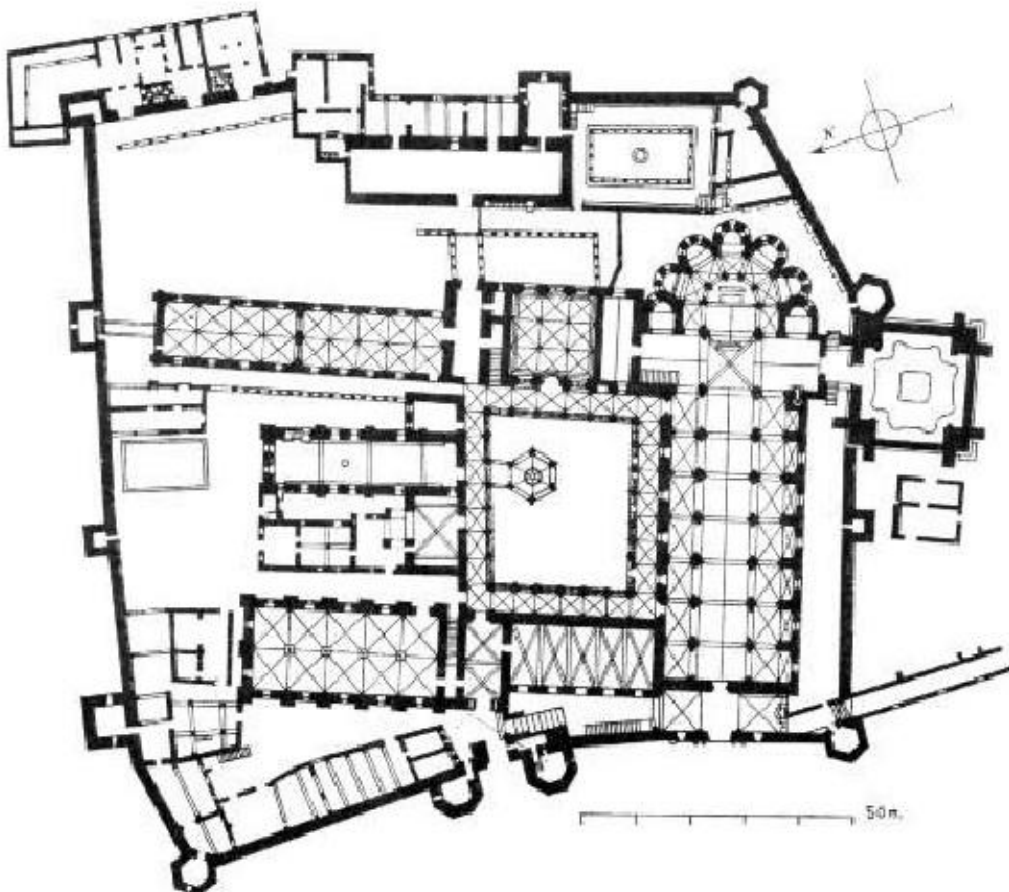
EL MONESTIR

1. Informació general sobre el monestir: Quan i quin comte va donar les terres perquè es fundés el monestir? Amb quina finalitat? Per què és important aquest comte en la història de Catalunya?
2. Quin és el nom exacte del monestir? Quina orde religiosa es va fer càrrec del monestir?
3. Posa exemples d'altres monestirs catalans.
4. El monestir de Poblet continua en ús? Ho ha estat sempre?
5. Elabora un mapa de la Catalunya medieval i situa Poblet i Montblanc. Actualment en quina comarca es troben?
6. Com s'anomenava durant l'edat mitjana la Catalunya en la que es troben Poblet i Montblanc?

LA VIDA EN EL MONESTIR

1. No tots els monjos i persones que vivien al monestir eren iguals. De quants tipus t'han parlat durant la visita?
2. Fes un petit escrit (10 línies) en el que descriuràs en primera persona descrivint com és la vida d'un monjo del monestir en l'edat mitjana.
3. Situa en el plànol les principals parts del monestir i explica per a què servia cadascuna

[claustre, església, cuina, refector, calefactor, sagristia, sala capitular, dormitori, font, biblioteca, celler]

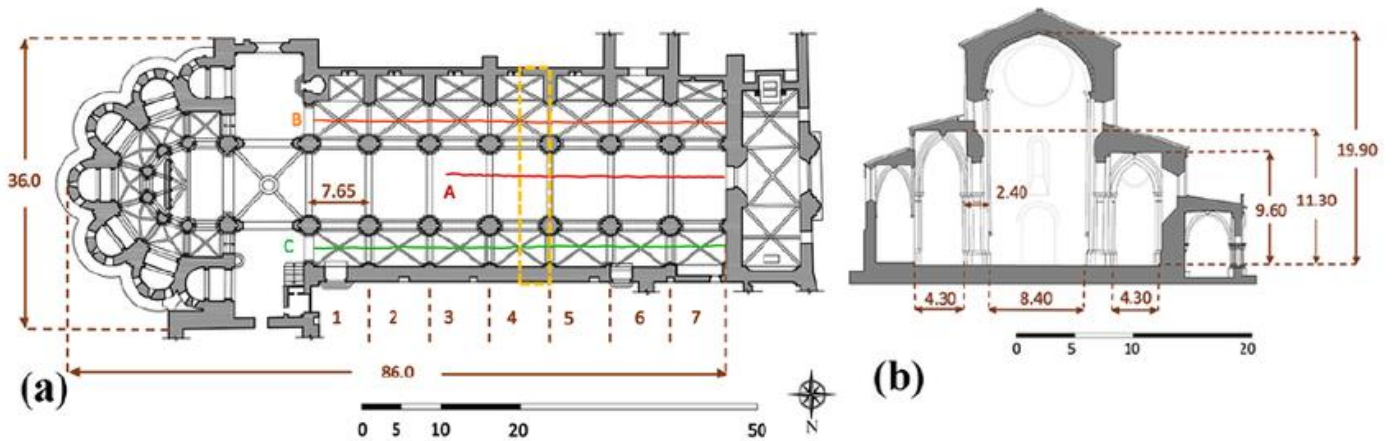


L'ARQUITECTURA DEL MONESTIR

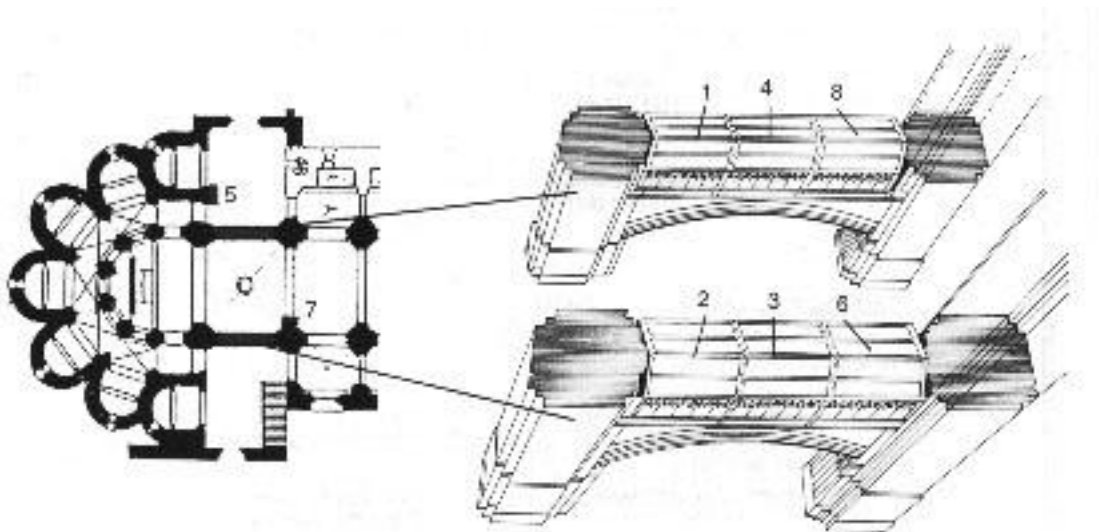
1. A Poblet trobem més d'un estil arquitectònic. Per què?
2. En quin estil s'ha construït el claustre? Justifica-ho
3. En quin estil s'ha construït la nau principal de l'església? Justifica-ho
4. Com s'han cobert el dormitori?
5. Quans tipus de voltes has observat a Poblet?
6. Com és l'exterior del monestir? Quin aspecte té?
7. Descriu com és la porta Reial de Poblet

L'ESGLÉSIA

1. Descriu l'església del monestir: planta (nombre de naus), coberta, estil, com és l'altar (quina és la decoració, en quin material s'ha fet el retaule), com està il·luminat...?



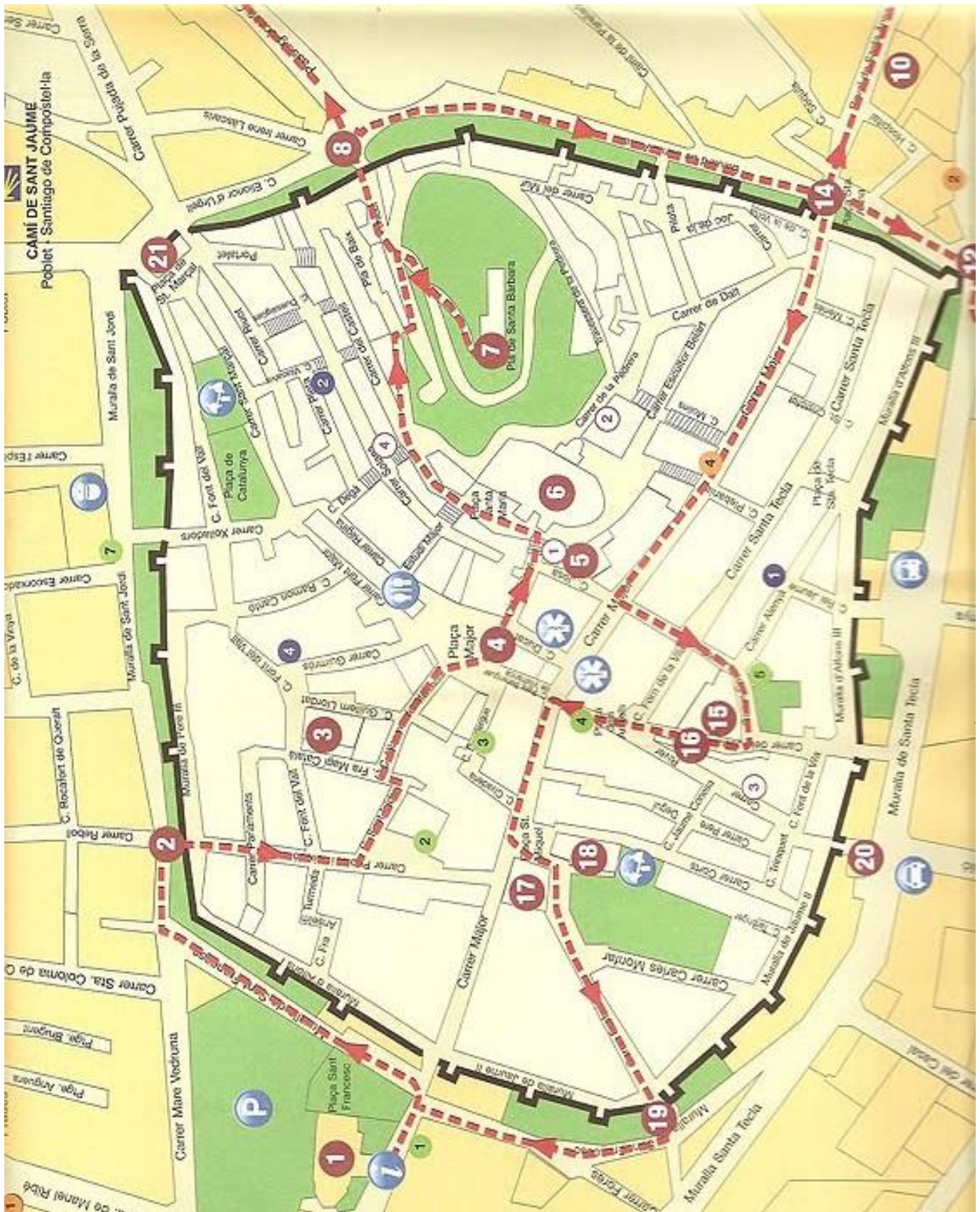
2. Quins reis estan enterrats a l'església de Poblet? Per què van ser importants cadascun? Indica on es troba cadascuna de les tombes en l'església. Busca informació sobre aquests reis i indica quan van regnar.
3. Com s'anomena el lloc on s'enterren molts reis?




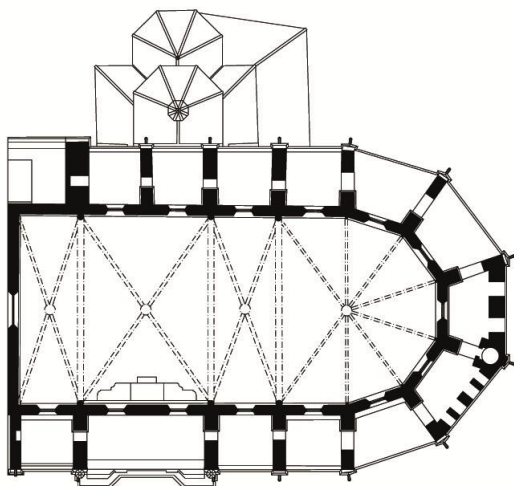
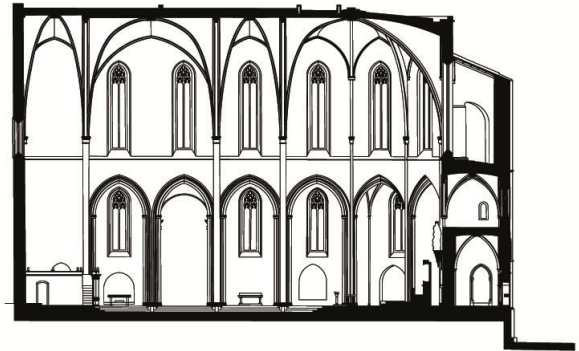
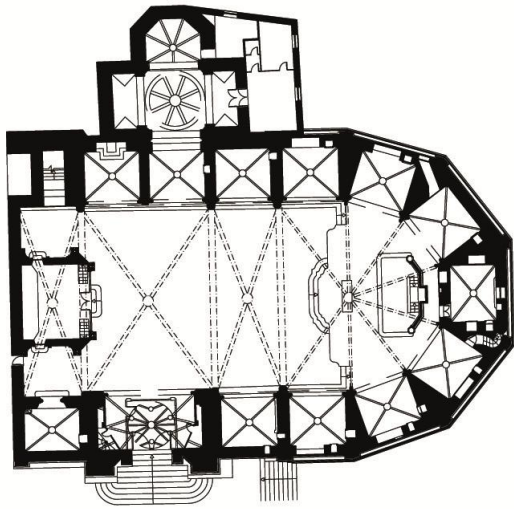
MONTBLANC

1. Busca informació sobre la fundació de Montblanc. Quan i qui la va fundar? De qui era fill aquest rei? I de qui va ser pare?
2. Identifica en el plànol els següents elements:

Casal dels Josà; Església de Santa Maria la Major; Pla de Santa Bàrbara; Palau del Castlà; Carrer dels jueus; Palau Alenyà; Església de Sant Miquel; Baluard de Santa Anna; Portal de Bové; Palau Reial



3. Identifica aquest edifici i descriu-lo breument. A quin estil pertany i per què?



0 5 10 25 50m

4. Descriu la ciutat de Montblanc i explica perquè és un bon exemple d'una ciutat medieval.
5. Quina forma tenen les torres de les muralles de Montblanc? Quantes hi ha?

Utilitza la fitxa per a fer la feina en brut. La majoria de respostes necessiten més espai que el que tens a la fitxa. L'entrega ha de ser en una fitxa nova en net. Pots utilitzar la mateixa fitxa que trobaràs a la pàgina:

<https://tempsmoderns.jimdo.com/2017/03/25/monestir-de-poblet-i-montblanc/>